



第2课时 2、3、4的乘法口诀(1)

基础过关

bǎ chéng fǎ kǒu jué bǔ chōng wán zhěng

一、把乘法口诀补充完整。

一二() 一三() 二三() 二四()
 一四() 三三() 三四() 四四()

jì suàn bìng xiě chū kǒu jué

二、计算并写出口诀。

$2 \times 1 = \square$

$3 \times 2 = \square$

$4 \times 3 = \square$

口诀: _____


口诀: _____

口诀: _____

bǎ xù hào tián zài xiāng yīng de kuò hào lǐ


dé shù yuè xiǎo lóu céng yuè dī

三、把序号填在相应的括号里。(得数越小楼层越低)




1×2

①




3×2

②




4×3

③



2×4

④



kàn tú liè suàn shì

四、看图列算式。

1.



$\square \times \square = \square$

2.



$\square \times \square = \square$

gēn jù chéng fǎ kǒu jué huà yì huà

五、根据乘法口诀画一画。

1. $2 \times 3 = \square$

2. $4 \times 4 = \square$

能力提升

xiǎng yi xiǎng tián yi tián

六、想一想,填一填。

$\bigcirc \times \bigcirc = \star$

$\triangle \times \triangle = \square$

$\star - \square = 5$

$\bigcirc = ()$

$\triangle = ()$

用1、2、3、4
试一试哦!



第3课时 2、3、4的乘法口诀(2)

基础过关

yòng yí jù kǒu jué xiě chū liǎng gè chéng fǎ suàn shì

一、用一句口诀写出两个乘法算式。

二三得六	二四得八	三四十二
_____	_____	_____
_____	_____	_____

kàn tú tián yì tián

二、看图填一填。

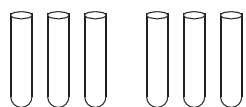
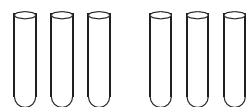
1.



$\square \times \square = \square$

口诀: _____

2.



$\square \times \square = \square$

口诀: _____

zài lǐ tián shàng huò
三、在 里填上 “>” “<” 或 “=”。

2×2  $2 + 2$

4×2  $4 + 2$

$3 + 1$  3×1

2×3  3×2

$4 + 4$  4×4

2×3  3×3

四、1个西瓜藤(téng)上结3个西瓜,

2个西瓜藤上结()个西瓜,

3个西瓜藤上结()个西瓜,

4个西瓜藤上结()个西瓜。



能力提升

五、把一根铁丝对折后再对折,每段长4厘米。这根铁丝长多少厘米?



第2课时 2、3、4的乘法口诀(1)

基础过关

bǎ chéng fǎ kǒu jué bǔ chōng wán zhěng

一、把乘法口诀补充完整。

一二(得二)

一三(得三)

二三(得六)

二四(得八)

一四(得四)

三三(得九)

三四(十二)

四四(十六)

jì suàn bìng xiě chū kǒu jué

二、计算并写出口诀。

$2 \times 1 = 2$

$3 \times 2 = 6$

$4 \times 3 = 12$

口诀: 一二得二


口诀: 二三得六

口诀: 三四十二


bǎ xù hào tián zài xiāng yīng de kuò hào lǐ

dé shù yuè xiǎo lóu céng yuè dī


三、把序号填在相应的括号里。(得数越小楼层越低)


 1×2


①


 3×2

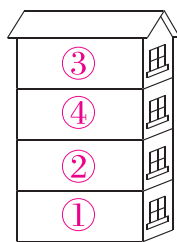
②


 4×3

③


 2×4

④



kàn tú liè suàn shì

四、看图列算式。

1.



$3 \times 3 = 9$

2.

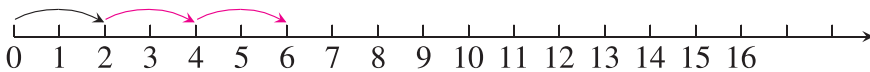


$4 \times 2 = 8$

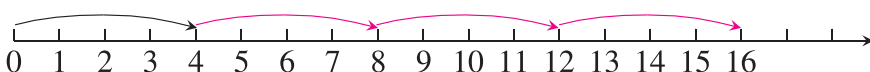
gēn jù chéng fǎ kǒu jué huà yì huà

五、根据乘法口诀画一画。

1. $2 \times 3 = 6$



2. $4 \times 4 = 16$



能力提升

xiǎng yì xiǎng tián yì tián

六、想一想,填一填。

$\bigcirc \times \bigcirc = \star$

$\triangle \times \triangle = \square$

$\star - \square = 5$

$\bigcirc = (3)$

$\triangle = (2)$

用1、2、3、4
试一试哦!



第3课时 2、3、4的乘法口诀(2)

基础过关

yòng yí jù kǒu jué xiě chū liǎng gè chéng fǎ suàn shì

一、用一句口诀写出两个乘法算式。

二三得六 $2 \times 3 = 6$ $3 \times 2 = 6$	二四得八 $2 \times 4 = 8$ $4 \times 2 = 8$	三四十二 $3 \times 4 = 12$ $4 \times 3 = 12$
--	--	--

kàn tú tián yì tián

二、看图填一填。

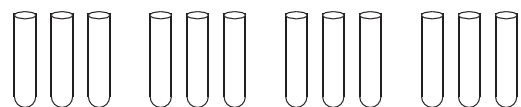
1.



$$\boxed{4} \times \boxed{2} = \boxed{8}$$

口诀: 二四得八

2.



$$\boxed{3} \times \boxed{4} = \boxed{12}$$

口诀: 三四十二

zài lǐ tián shàng huò
三、在 里填上 “>” “<” 或 “=”。

$$2 \times 2 \quad \boxed{=} \quad 2 + 2$$

$$4 \times 2 \quad \boxed{>} \quad 4 + 2$$

$$3 + 1 \quad \boxed{>} \quad 3 \times 1$$

$$2 \times 3 \quad \boxed{=} \quad 3 \times 2$$

$$4 + 4 \quad \boxed{<} \quad 4 \times 4$$

$$2 \times 3 \quad \boxed{<} \quad 3 \times 3$$

四、1个西瓜藤(téng)上结3个西瓜,

2个西瓜藤上结(6)个西瓜,

3个西瓜藤上结(9)个西瓜,

4个西瓜藤上结(12)个西瓜。



能力提升

五、把一根铁丝对折后再对折,每段长4厘米。这根铁丝长多少厘米?

$$4 \times 4 = 16(\text{厘米})$$

答:这根铁丝长16厘米。